



SINDHI HIGH SCHOOL, BANGALORE

Half Yearly Examination-2025-26

Subject - ENGLISH

Class: 5

Date: 22/09/2025

No. of Sides: 7

Max Marks: 60

Reading Time: 15 Minutes

Writing Time: 2Hrs 30min

General Instructions

This paper contains **THREE** sections:

Section A-Reading-16 Marks

Section B-Writing & Grammar- 20Marks

Section C-Literature- 24 Marks

All sections are compulsory.

Section A-Reading (16 Marks)

I. Read the following passage carefully and answer the questions:

(8M)

1. Avul Pakir Jainulabdeen Abdul Kalam, popularly known as Dr A P J Abdul Kalam, served as the eleventh President of India from 2002 to 2007. He was a noted scientist and a leader with a vision who was popularly known as the 'People's President' during his tenure from 2002-2007. He was born on 15 October, 1931 in Tamil Nadu. His father owned boats which he would rent out to the local fishermen. Abdul Kalam also worked as a newspaper vendor to pay his fees.

2. He graduated in Physics from St Joseph's College, Tiruchirappalli. He obtained a diploma in Aeronautical Engineering from Madras Institute of Technology.

Dr A P J Abdul Kalam was a scientist par excellence who later worked as a project Director and was involved in the development of India's first Satellite Launch Vehicle. He was an aeronautical engineer with DRDO and ISRO. He played a major role in developing missiles in India.

3. Hence, he is also known as the 'Missile Man of India'. He strongly believed that India can progress remarkably if there is more development in science and technology. He loved to interact with children and youngsters.

His outstanding contribution won him the Padma Bhushan in 1981, Padma Vibhushan in 1990 and Bharat Rathna in 1997. He has written many books like Future India 2020, Wings of Fire, Ignited Minds, Indomitable Spirit and so on.

4. Even as the President of India, he took avid interest in science and technology. He was the visiting faculty at IIM-Ahmedabad. He had also put forward a project plan for establishing bio-implants. He was also the Paryavaran Ambassador of India and continued to work for the benefit of his countrymen.

5. He passed away on 27 July 2015 while delivering a lecture at the Indian Institute of Management, Shillong. His contributions are still remembered as some of the best scientific and technological developments in the country.

Choose the appropriate answer.

a) Dr. Kalam got a diploma in Aeronautical Engineering from:

[1m]

- i) Indian Institute of Technology – Delhi.
- ii) Madras Institute of Technology
- iii) IIM – Ahmedabad
- iv) ISRO

[1m]

b) Dr APJ Abdul Kalam served as the _____.

- i) the tenth President of India from 2002 to 2007
- ii) the eleventh President of India from 2002 to 2007
- iii) the eleventh President of India from 2000 to 2005
- iv) the tenth President of India from 2000 to 2005

[1m]

c) Complete the following sentence.

- i) Dr. APJ Abdul Kalam was born on _____, in Tamil Nadu and also worked as a _____ to pay his fees.

($\frac{1}{2} \times 2 = 1m$)

d) Write the antonym of:

- i) remembered x
- ii) remarkable x

e) Pick out the synonym from the passage for the words given below.

(1x2=2m)

- i) Fellow citizen - (para-4)
- ii) Dream - (para-1)

f) Answer the following question.

- i) How does Dr.A.P.J.Abdul Kalam's life inspire you?

(1x2=2m)

II. Read the following passage carefully and answer the questions: (8M)

1. Once a father asked his daughters, "What is the sweetest thing in the world?" 'Sugar!' said the elder daughter. 'Salt', said his younger daughter. The father thought that his younger daughter was making fun of him, but she stuck to her opinion. The father was obstinate, and so was his daughter. A quarrel broke out between them over this petty matter, and he drove her out of the house saying, "If you think that salt is sweeter than sugar, you better find another home where the salt is more to your taste.'

2. It was a beautiful summer night. The pretty maiden sat singing sadly in the forest around her father's cottage. A young prince, who had lost his way while hunting the deer, heard her voice. He came to her to ask the way. He was struck by her beauty and took her to his beautiful palace and married her.

3. The bride invited her father to the wedding feast, without telling him that she was his daughter. All the dishes were prepared without salt. The guests began to complain as they ate the tasteless food. 'There is no salt in the meat!' they said angrily.

4. 'Ah,' said the bride's father. "Salt is truly the sweetest thing in the world! But when my daughter said so, I turned her out of my house. If only I could see her again and tell her how sorry I am!"

5. Drawing the bridal veil aside from her face, the happy girl came to her father and kissed him. Now properly salted dishes were brought in and all the guests were satisfied.

Choose the best option.

1. Which proverb can be related to the above story? [1m]

- a) Don't always trust what you see, even salt looks like sugar.
- b) Salt's presence is not felt but its absence makes all things tasteless.
- c) You have to take everything I say with a grain of salt.
- d) Wit is the salt of conversation, not the food.

2. Why did the bride prepare all the dishes without salt? [1m]

- a) she hates adding salt to the dishes.
- b) to punish her father.
- c) to chase the people away.
- d) to make her father realise the salt is sweeter than the sugar.

3. Fill in the blanks with suitable answers from the passage. [1m]

- a) The _____ complained about the food in the wedding.

4. Pick out the synonyms from the passage for the words given below. [2m]

- i. Listen to _____ . (Para 2)
- ii. Contended _____ . (Para 5)

5. Pick out the antonyms from the passage for the words given below. [1m]

- i. Enormous x _____ . (stanza 1)
- ii. Appetizing x _____ .(stanza 3)

6. Answer the following in a sentence. [2m]

- i. What made the father feel sorry for his behaviour towards his younger daughter?

Section B – Writing & Grammar (20 Marks)

III. A Yesterday it was your first day in your new school. You made new friends. Teachers were good to you and you liked the infrastructure of the school. Write about your experiences and feelings about the new school in your diary. [4m]

B. Write a letter to your friend inviting him/her to spend the Summer Vacation at your place in Delhi. You are Sakshi/Saksham. [4m]

(OR)
Write a bio-sketch of Virat Kohli the cricketer, highlighting his early life, career, achievements and contributions to our country.

Name: Virat Kohli

Born: 5 November 1988, Delhi, India

Nickname: Chiku

Role: Right-handed batsman

Teams: Indian Cricket Team, Royal Challengers Bangalore (IPL)

Debut: 2008 (ODI) vs Sri Lanka

Achievements: Former captain of Indian cricket team

ICC Cricketer of the Year (multiple times)

Won ICC Cricket World Cup 2011 and ICC Champions Trophy 2013

Holds records for fastest centuries in ODIs for India

Qualities: Passionate, hardworking, disciplined, and determined

Hobbies: Fitness training, travelling

IV. Do as directed.

1. Identify the part of speech of each underlined word in the following sentences: (1 x 2 = 2m)

a. Hurrah! We have won the match. _____

b. The old man shouted angrily at the noisy children. _____

2. Fill in the blanks with suitable pronouns choosing from the alternatives given below. (1 x 2 = 2m)

a. I remember that _____ bought the fruits from us.

i) they ii) her iii) them iv) I

b. I met Anu yesterday. _____ invited me to her house.

i) Her ii) She iii) Me iv) I

3. Read the passage given below, identify the words and place them in correct columns.

(1/2x6=3m)

Ravi visited the Taj Mahal on a sunny morning. He admired the beauty of the marble monument. Tourists from many countries enjoyed the peaceful garden. Happiness filled Ravi's heart as he clicked photographs.

Proper Noun	Common Noun	Abstract Noun
1.	1.	1.
2.	2.	2.

4. Underline the adjectives in the sentences.

1. The tall building is near the park.
2. We bought fresh vegetables from the market.

(1x2=2m)

5. Choose the correct verb to complete the sentence.

1. The dog (bark / barks) at strangers.
2. They (is / are) planning a trip to Jaipur.
3. Our teacher (was / were) happy with our work.

(1x3=3m)

Section-C Literature (24 Marks)

V. Read the extract given below and answer ANY ONE of the following questions: (1x4= 4m)

A) "Now the world's new flag is streaming wide.

Far flying wide and high, it shall cover the earth from side to side.

When every race in every land shall join for the world's delight.

When all our flags shall blend in one and all our wars shall cease."

1. What is streaming wide?

- a) The world's new flag
- b) The old flag
- c) A river
- d) A mountain

2) How will the new flag cover the earth?

- a) From top to bottom
- b) From side to side
- c) From east to west
- d) From north to south

3) What will happen to all our flags?

- a) They will remain separate
- b) They will be destroyed
- c) They will be hidden
- d) They shall blend in one

4) Identify and mention any one poetic device from the above lines.

(OR)

B) But Uma didn't think that she could ever see herself. She began to paint and exhibit the beauty of the corals of the underwater world longed to see. In 2014, at an exhibition of her paintings at The Taj in the Maldives. Uma met a lady, who glanced around exhibition and told Uma, 'Have you ever seen the reef yourself?'

'No', Uma replied. I think you should', she said. 'Can I learn to dive? Uma remembers thinking. Most people considered it strange that at this stage of my life, I wanted to learn to do something adventurous. I was a bit scared of water, but I decided to face my fears instead of running away.'

1. What did Uma decide to do since she couldn't see the corals herself?

- a) Write about them.
- b) Paint and exhibit the beauty of the underwater world
- c) Read books about them.
- d) Watch documentaries about them.

2) Who suggested Uma to see the reef herself?

- a) A man at the exhibition
- b) A lady at the exhibition

d) Uma's family member

3) What did Uma want to learn?

- a) How to swim
- b) How to paint
- c) How to dive
- d) How to snorkel

4) Why was Uma initially hesitant to learn diving?

- a) She was too old.
- b) She didn't like the equipment.
- c) She was a bit scared of water.
- d) She didn't have time.

VI. Answer ANY THREE of the following questions:

(2x3=6m)

1. What did Jatin's father say to him before leaving for school?
2. What was the secret between Pierre and Joseph? How was their bond special?
3. How was the new school different from other schools?
4. Was Tiet Lieu worried about the feast? What did he want to do first?

VII. Answer ANY THREE of the following questions:

(3x3=9m)

1. How did the other sons prepare for the feast?
2. What did Totto-Chan tell the headmaster?
3. Why does the speaker compare the new flag to a rainbow?
4. How did Hanna's move affect the speaker's routines, relationships, or emotions?"

VIII. Answer ANY ONE of the following questions:

(5x1=5m)

1. Describe Uma's first dive experience in the Maldives, focusing on what she saw and how it impacted her. What did you learn from the lesson?
2. Which characteristic of Totto Chan is interesting according to you? What are the qualities you would like to inculcate and why?



SINDHI HIGH SCHOOL, BANGALURU

HALF YEARLY EXAMINATION (2025-26)

SUBJECT – Additional Hindi

Class: V

Date: 17.09 2025

Number of printed sides:4

Marks: 60

Reading Time: 15 mins

Writing Time: 2 hrs 30mins

सामान्य निर्देश :-

- * इस प्रश्न पत्र में चार खंड है - खंड क, ख, ग और घ
- * सभी प्रश्नों के उत्तर क्रमानुसार लिखिए।
- * चारों खंडों के सभी प्रश्नों के उत्तर देना अनिवार्य है।

खंड - क

I. दिए गए गद्यांश को पढ़कर प्रश्नों के सही विकल्प चुनकर लिखिए। 5

एक बार की बात है। दो मित्र जंगल से गुजर रहे थे। रास्ते में उन्हें एक भालू दिखाई दिया। एक मित्र तुरंत पेड़ पर चढ़ गया और जान बचा ली। दूसरा मित्र पेड़ पर नहीं चढ़ सकता था। उसने ज़मीन पर लेटकर साँस रोक ली और मरने का नाटक करने लगा। भालू उसके पास आया, सूँघा और यह सोचकर चला गया कि यह आदमी मर चुका है। जब भालू चला गया, तब पेड़ पर चढ़ा मित्र नीचे आया और बोला, "भालू तुम्हारे कान में क्या कह रहा था?" दूसरे मित्र ने जवाब दिया, "भालू कह रहा था कि जो मुसीबत में साथ न दे, वह सच्चा मित्र नहीं होता।"

1. दो मित्र कहाँ से गुजर रहे थे?

क. गाँव के रास्ते से ख. जंगल से ग. गुफा के पास से घ. नदी के किनारे

2. उन्हें रास्ते में क्या दिखाई दिया?

क. शेर ख. हाथी ग. भालू घ. साँप

3. पहले मित्र ने अपनी जान कैसे बचाई?

क. पेड़ पर चढ़ कर ख. भालू को भगा कर ग. स्वयं भाग कर घ. चिल्ला कर

4. दूसरे मित्र ने क्या किया?

क. भालू से लड़ा ख. भालू को मारा ग. पेड़ पर चढ़ गया घ. जमीन पर लेट गया

5. सच्चा मित्र कैसा होना चाहिए?

क. जो मुसीबत में साथ दे ख. जो मुसीबत में साथ न दे
ग. जो हँसी उड़ाए घ. जो कभी काम नहीं आए

खंड- ख

II क. दिए गए शब्दों के दो-दो पर्यायवाची शब्द लिखिए 2

1. आकाश 2. हवा

ख. दिए गए शब्दों के विलोम शब्द लिखिए 2

1. जवाब 2. उचित 3. खुला 4. एक

- ग. दिए गए संयुक्ताक्षरों से दो-दो शब्द बनाइए 2
 1. व्य 2. स्त
- घ. अनेक शब्दों के लिए एक शब्द लिखिए 2
 1. राजनीति का ज्ञाता 2. देश से प्रेम करने वाला
 3. मन को मोहने वाला 4. आलोचना करने वाला
- ङ. नीचे लिखे तत्सम शब्दों के तद्भव रूप लिखिए 2
 1. अंधकार 2. दीपक 3. मस्तक 4. कर्म
- च. दिए गए विशेष्य शब्दों के लिए उचित विशेषण शब्द लिखिए 2
 1. _____ तलवार 2. _____ बालक 3. _____ स्वप्न 4. _____ अवस्था
- छ. विशेषण से भाववाचक संज्ञा बनाइए- 2
 1. कुशल 2. अच्छा 3. सरल 4. भला
- ज. दिए गए वाक्य से संज्ञा व सर्वनाम शब्द छाँटकर लिखिए 1
 1. मोहन ने कहा कि वह कल आएगा।

खंड-ग

III क. दिए गए गद्यांश को पढ़कर पूछे गए प्रश्नों के सही विकल्प चुनकर लिखिए। 5

भारत को 'त्योहारों का देश' कहा जाता है। यहाँ वर्ष भर त्योहारों की धूम मची रहती है। ये त्योहार जन-जीवन में चेतना, उत्साह और एकता का संचार करते हैं। दक्षिण भारत में केरल राज्य का एक विशेष त्योहार है-ओणम। लगातार तीन माह की भारी वर्षा के बाद आकाश स्वच्छ और चमकीला नीला हो जाता है। तालाबों, झीलों, नदियों और झरनों में जल की बहुतायत हो जाती है। कमल और लिली पूरे सौंदर्य के साथ खिलकर महक उठते हैं। फ़सलें पककर झूमने लगती हैं। यह समय होता है फ़सलों के घर आने का, झूमने और खुशियों का त्योहार ओणम मनाने का। यह श्रावण मास में मनाया जाता है। मलयालम में इस मास को 'चिंगमासम' कहते हैं।

- भारत को किस नाम से जाना जाता है?
 क. पर्वतों का देश ख. त्योहारों का देश ग. नदियों का देश घ. वीरों देश
- ओणम किस राज्य का विशेष त्योहार है?
 क. तमिलनाडु ख. आंध्र प्रदेश ग. कर्नाटक घ. केरल
- ओणम से पहले कितने महीने की भारी वर्षा होती है?
 क. तीन महीने ख. एक महीना ग. चार महीने घ. दो महीने
- वर्षा के बाद आकाश कैसा हो जाता है?
 क. धुंधला ख. बादलों से भरा ग. स्वच्छ और चमकीला नीला घ. काला
- मलयालम में श्रावण मास को क्या कहते हैं?
 क. मकरमासम ख. चिंगमासम ग. पुष्यमासम घ. विषुमासम

IV. निम्नलिखित गद्यांश को पढ़कर सही विकल्प चुनकर लिखिए :-

5

शिवाजी: वीरपुत्र तुम इतनी जल्दी कैसे आ गए?

मालवजी: यदि आप पूछते ही हैं, तो सुनिए। मेरे पिता आपकी सेना में सिपाही थे। मुगलों से लड़ते समय उन्होंने अपने देश और जाति के लिए अपने प्राण न्योछावर कर दिए। आज उनको मरे हुए दो वर्ष हो गए। इस समय घर में मैं और मेरी माता, केवल दो प्राणी हैं। आज तीन महीने से हम दोनों को पेट-भर अन्न मिलना दूभर हो रहा है। इस संसार में मनुष्य सब कुछ सहन कर लेता है, परंतु पेट की ज्वाला को सहन करना बड़ा कठिन काम है। एक दिन मैं इसी विचार में बैठा था कि एक यवन ने आकर मुझसे कहा कि अगर शिवाजी का वध कर दो, तो मैं बहुत-कुछ इनाम दूँगा। इस लालच में पड़कर मैं आपकी हत्या करने के लिए यहाँ आया था। सौभाग्यवश आपकी आँखें खुल गईं।

1. मालवजी के पिता किसकी सेना में सिपाही थे?

क. मुगलों की ख. अंग्रेजों की ग. शिवाजी की घ. मराठों की

2. मालवजी के पिता की मृत्यु किस कारण हुई?

क. बीमारी से ख. भूकंप में ग. बाढ़ में घ. युद्ध में

3. मालवजी के पिता की मृत्यु को कितने वर्ष हो गए थे?

क. एक वर्ष ख. तीन वर्ष ग. दो वर्ष घ. चार वर्ष

4. घर में मालवजी के साथ कौन रहता था?

क. पिता ख. माता ग. भाई घ. चाचा

5. शिवाजी की हत्या के लिए मालवजी को इनाम का लालच किसने दिया?

क. यवन ने ख. दोस्तों ने ग. अंग्रेजों ने घ. तानाजी ने

V. दिए गए प्रश्नों के उत्तर एक वाक्य में लिखिए।

1X8=8

1. लड़के की तरफ कौन ललचाई आँखों से देख रहा था?
2. शेर झरने के पास क्यों गया?
3. मैडम कक्षा मॉनीटर किसे बनाने वाली थी?
4. चंद्रमा कहाँ का अँधियारा नहीं मिटा पाता?
5. डॉक्टर ने प्रभु का इलाज करने के लिए क्या किया?
6. पत्र में किताबों की दुनिया को कैसा बताया गया है?
7. दीये के बुझने के बाद उसके मस्तक पर कैसी रेखा खिंच गई?
8. रात में अंधकार का नाश कौन करता है?

VI. दिए गए प्रश्नों के उत्तर 2-3 वाक्यों में लिखिए।

(2X6=12)

1. शेर अकसर कहाँ रहता है? लड़का कितने दिनों तक पेड़ पर बैठा रहा?
2. प्रभु के पापा को बाँस के साथ कहाँ जाना था और पापा ने क्या कहा?
3. हार और जीत में हमें कैसा रहना चाहिए? पत्र के अनुसार नकल करके पास होने से क्या अच्छा है?
4. बूँद किसकी गोद से निकलकर आगे बढ़ी और उसे किस बात का दुख हो रहा था?
5. खाने की रेल कौन चलाता था? कैसे?
6. दीये का सिर नीचा कैसे हुआ? अहंकार का सदा कैसा परिणाम होता है?

खंड - घ

VII. तीन दिन की छुट्टी माँगते हुए प्रधानाचार्या को पत्र लिखिए।

5

या
खिड़की का शीशा टूट जाने पर क्षमा माँगते हुए प्रधानाचार्य को पत्र लिखिए।

VIII. दिए गए किसी एक विषय पर 40-50 शब्द लिखिए।

5

वर्षा में भीगने का अनुभव या सच्चा मित्र या मेरा देश भारत



SINDHI HIGH SCHOOL, BENGALURU
HALF YEARLY EXAMINATION [2025-26]
SUBJECT- L2 KANNADA

Class: V
Date: 24.9.2025
No. of Sides: 6

Marks: 60
Reading time: 15 Minutes
Writing Time: 2 hrs 30 minutes

ಸೂಚನೆಗಳು:

- * ಪತ್ರಿಕೆಯು A ಮತ್ತು B ಎಂಬ ಎರಡು ಭಾಗಗಳನ್ನು ಒಳಗೊಂಡಿರುತ್ತವೆ.
- * ಪ್ರಶ್ನೆಪತ್ರಿಕೆಯಲ್ಲಿ ಒಟ್ಟು 13 ಮುಖ್ಯ ಪ್ರಶ್ನೆಗಳಿರುತ್ತವೆ.
- * ಪ್ರತಿಯೊಂದು ಪ್ರಶ್ನೆಗಳ ಸೂಚನೆಗಳನ್ನು ಸರಿಯಾಗಿ ಓದಿಕೊಂಡು ಉತ್ತರಿಸಿ.
- * ಪ್ರಶ್ನೆ ಮತ್ತು ಉಪಪ್ರಶ್ನೆಗಳ ಸಂಖ್ಯೆಯನ್ನು ತಪ್ಪಿಲ್ಲದೆ ಬರೆಯಿರಿ.

ಭಾಗ- A (30 ಅಂಕಗಳು)	ವಾಚನ ಮತ್ತು ಗ್ರಹಿಕಾ ಕೌಶಲ್ಯ	15 ಅಂಕಗಳು
	ಅನ್ವಯಿಕ ವ್ಯಾಕರಣ	10 ಅಂಕಗಳು
	ಪಠ್ಯಪೂರಕ ಅಧ್ಯಯನ	5 ಅಂಕಗಳು
ಭಾಗ- B (30 ಅಂಕಗಳು)	ಬರವಣಿಗೆ ಕೌಶಲ್ಯ	8 ಅಂಕಗಳು
	ಪಠ್ಯಗಳ ಅಧ್ಯಯನ	22 ಅಂಕಗಳು
	ಒಟ್ಟು ಅಂಕಗಳು	60 ಅಂಕಗಳು

PART- A. (30 ಅಂಕಗಳು)

SECTION - A

(ವಾಚನ ಮತ್ತು ಗ್ರಹಿಕಾ ಕೌಶಲ್ಯ)=15 ಅಂಕಗಳು

I. ಈ ಗದ್ಯಭಾಗವನ್ನು ಓದಿ ಕೊಟ್ಟಿರುವ ಪ್ರಶ್ನೆಗಳಿಗೆ ಸರಿಯಾದ ಉತ್ತರವನ್ನು ಆರಿಸಿ ಬರೆಯಿರಿ:- 5x1=5

ಕರ್ನಾಟಕದ ದಕ್ಷಿಣ-ಪಶ್ಚಿಮ ಭಾಗದಲ್ಲಿ ಇರುವ ಕೊಡಗು ಜಿಲ್ಲೆಯನ್ನು 'ಕೂರ್ಗ್' ಎಂದೂ ಕರೆಯುತ್ತಾರೆ. ಇದು ಸಹ್ಯಾದ್ರಿ ಪರ್ವತಗಳ ನಡುವೆ ಅತೀ ಸುಂದರವಾದ ಪ್ರಕೃತಿ ಸೌಂದರ್ಯದಿಂದ ಕೂಡಿದೆ. ಕೊಡಗು ಜಿಲ್ಲೆಯಲ್ಲಿ ಕಾಫಿ ತೋಟಗಳು, ಮಂಜುಗಡ್ಡೆಯ ಪರ್ವತಗಳು, ಹರಿವ ನದಿಗಳು, ಜಲಪಾತಗಳು ಮತ್ತು ದಟ್ಟವಾದ ಕಾಡುಗಳಿಗಾಗಿ ಹೆಸರುವಾಸಿಯಾಗಿದೆ. ಕನ್ನಡ ನಾಡಿನ ಜೀವನದಿಯಾದ 'ಕಾವೇರಿ'ಯ ಉಗಮಸ್ಥಾನ ತಲಕಾವೇರಿಯು ಇಲ್ಲಿದೆ. ಇಲ್ಲಿನ ಜನರನ್ನು 'ಕೊಡವರು' ಎಂದು ಕರೆಯುತ್ತಾರೆ. ಕೊಡವ

ಸಮುದಾಯದವರು ತಮ್ಮದೇ ಆದ ವಿಶೇಷ ಸಂಸ್ಥೆಯನ್ನು ಹೆಚ್ಚು - ಕಡಿಮೆ ಸಂಸ್ಕೃತಿ, ಆಟರಣೆ ಹಾಗೂ ಉಡುಗಿ ತೋಡುಗಳನ್ನು ಹೊಂದಿದ್ದಾರೆ.

ಕೊಡಗು ವಿರಲ ನಾಡು ಎಂದೂ ಪ್ರಸಿದ್ಧವಾಗಿದೆ. ಕೊಡಗಿನಲ್ಲಿ ಜನಿಸಿದವರು ದೇಶ ರಕ್ಷಣೆಯ ಹೊಣೆಗಾರಿಯನ್ನು ತಮ್ಮ ಜೀವನದ ಧರ್ಮವೆಂದು ನಂಬಿದ್ದಾರೆ. ಇಲ್ಲಿನ ಪ್ರಮುಖ ಪ್ರವಾಸಿ ತಾಣಗಳೆಂದರೆ; ತಲಕಾವೇರಿ, ಭಾಗಮಂಡಲ, ಅಬ್ಬೆ ಜಲಪಾತ, ರಾಜಾಸೀಟ್, ದುಬಾರೆ ಆನೆ ಶಿಬಿರ, ಇರ್ಪು ಜಲಪಾತ ಮತ್ತು ನಾಗರ ಹೊಳೆ ರಾಷ್ಟ್ರೀಯ ಉದ್ಯಾನವನ ಮುಂತಾದವು. ಪ್ರವಾಸೋದ್ಯಮ ಕೂಡ ಇಲ್ಲಿನ ಪ್ರಮುಖ ಆದಾಯದ ಮೂಲವಾಗಿದೆ. ಕೊಡಗಿನವರು ತಮ್ಮ ವಿಶೇಷವಾದ ತಿಂಡಿ ತಿನಿಸುಗಳಿಗೂ ಪ್ರಖ್ಯಾತಿ ವಹೆದಿದ್ದಾರೆ. ಅಕ್ಕಿ ಮತ್ತು ಸ್ಥಳೀಯ ಮಸಾಲೆಗಳ ರುಚಿ ವಿಶೇಷವಾಗಿದ್ದು ಕೊಡಗಿನ ಆಹಾರವು ಸಂಸ್ಕೃತಿಯನ್ನು ಪ್ರತಿಬಿಂಬಿಸುತ್ತದೆ. ಕೊಡವ ಸಮುದಾಯದ ಉತ್ಸವಗಳು ಪುತ್ತರಿ ಮತ್ತು ಕೈಲೂರು. ಒಟ್ಟಿನಲ್ಲಿ ಕೊಡಗು ಕರ್ನಾಟಕದ 'ಸ್ಯಾಟ್ಲಂಡ್' ಎಂದೇ ಪ್ರಸಿದ್ಧಿಯಾಗಿದ್ದು ಪ್ರಕೃತಿ ಸೌಂದರ್ಯ, ಕಾಫೀ ತೋಟಗಳು ಮತ್ತು ಸೈನಿಕರಿಗೆ ಹೆಸರುವಾಸಿಯಾಗಿದೆ.

ಪ್ರಶ್ನೆಗಳು :-

1. ಕಾವೇರಿಯ ಉಗಮಸ್ಥಾನ _____
 (A) ತಲಕಾವೇರಿ (B) ಮೂಲಕಾವೇರಿ (C) ಪಾತಳಕಾವೇರಿ (D) ಜಲಕಾವೇರಿ
2. ಕೊಡಗು ಜಿಲ್ಲೆಯನ್ನು _____ ಎಂದೂ ಕರೆಯುತ್ತಾರೆ.
 (A) ಊಟಿ (B) ದಕ್ಷಿಣ ಕಾಶಿ (C) ಕೂರ್ಗ್ (D) ಅಮ್ಮನ ನಾಡು
3. ಕೊಡಗಿನ ಪ್ರಮುಖ ಪ್ರವಾಸಿ ತಾಣಗಳೆಂದರೆ; _____
 (A) ಅರಮನೆ, ಉದ್ಯಾನವನ (B) ಭಾಗಮಂಡಲ, ರಾಜಾಸೀಟ್
 (C) ಗಾಜಿನ ಮನೆ, ಕೆರೆ (D) ಕೋಟೆ, ಕಾಡು
4. ಕೊಡಗಿನ ಜನರನ್ನು _____ ಎಂದು ಕರೆಯುತ್ತಾರೆ.
 (A) ತಮಿಳರು (B) ಸಾಳ್ವರು (C) ಮಲೆಯಾಳಿಗಳು (D) ಕೊಡವರು
5. ಕೊಡವ ಸಮುದಾಯದ ಉತ್ಸವಗಳು _____
 (A) ಗೌರಿ ಮತ್ತು ಗಣೇಶ (B) ಪುತ್ತರಿ ಮತ್ತು ಕೈಲೂರು
 (C) ಸಂಕ್ರಾಂತಿ ಮತ್ತು ಉಗಾದಿ (D) ದಸರಾ ಮತ್ತು ದೀಪಾವಳಿ

II. ಈ ಕೆಳಗೆ ಕೊಟ್ಟಿರುವ "ನನ್ನ ದೇಶ ನನ್ನ ಜನ" ಪರಿತ ಗದ್ಯಭಾಗವನ್ನು ಓದಿಕೊಂಡು, ಅದರ ಕೆಳಗೆ ಕೊಟ್ಟಿರುವ ಪ್ರಶ್ನೆಗಳಿಗೆ ಉತ್ತರ ಬರೆಯಿರಿ. 5X1=5

'ಜನಗಣಮನ' ಇದು ನಮ್ಮ ರಾಷ್ಟ್ರಗೀತೆ. ಈ ಗೀತೆಯನ್ನು ಬರೆದವರು ರವೀಂದ್ರನಾಥ ಟಾಗೋರ್. ಇದು ಭಾರತ ದೇಶವನ್ನು ಬಣ್ಣಿಸುತ್ತದೆ ಮತ್ತು ಭಾರತೀಯರಿಗೆ ಜಯವನ್ನು

ಕೊರುತ್ತದೆ. 'ವಂದೇಮಾತರಂ' ನಮ್ಮ ದೇಶಕ್ಕೆ ಗೀತೆ ಇದ್ದು ಬರೆದವರು ಬರೆದವರನ್ನು
ಚಟಿಣಿ. ಇದು ದೇಶ ಪ್ರೇಮ ಸಾರುವ ಗೀತೆಯಾಗಿದೆ.

ನಮ್ಮ ದೇಶದ ಬಾವುಟ ಮೂರು ಬಣ್ಣಗಳಿಂದ ಕೂಡಿದೆ. ಕೆಳಗೆ ಹೂಗದ ಸಂಕೇತ
ಬಿಳಿ ಶಾಂತಿಯ ಪ್ರತೀಕ ಮತ್ತು ಹಸಿರು ಸಮೃದ್ಧಿಯ ಸಂಕೇತ ಮತ್ತು ಇರುವ ನೀಲಿ ಬಣ್ಣವು
ಚಕ್ರ ನಮ್ಮ ಧರ್ಮ ಚಕ್ರ ಪ್ರಗತಿಯ ಸಂಕೇತ. ಇದುವೇ ನಮ್ಮ ಹೆಮ್ಮೆಯ ಬಾವುಟ.

ಈ ನಾಡಿನ ರಕ್ಷಣೆಗಾಗಿ ಅನೇಕ ಜನ ಬಲಿದಾನ ಮಾಡಿದ್ದಾರೆ. ಅವರುಗಳಲ್ಲಿ ಕಿತ್ತೂರು
ರಾಣಿ ಚೆನ್ನಮ್ಮ, ರಾಣಿ ಲಕ್ಷ್ಮಿಬಾಯಿ, ಟಿಪ್ಪು ಸುಲ್ತಾನ, ಭೀಷ್ಮ ಸಿಂಗ್, ಚಂದ್ರಶೇಖರ
ಆಜಾದ ಪ್ರಮುಖರು. ಅನೇಕ ತಾಯಂದಿರು ದೇಶಕ್ಕಾಗಿ ತಮ್ಮ ಮಕ್ಕಳನ್ನೇ ಕೊಡುಗೆಯನ್ನಾಗಿ
ನೀಡಿರುವರು. ವಾಲ್ಮೀಕಿ, ವ್ಯಾಸ, ಪಂಪ, ಹರಿಹರ, ರಾಘವಾಂಕ, ಕುಮಾರವ್ಯಾಸ, ಕವೀರ
ಮೊದಲಾದ ಕವಿಗಳ ಬೀಡು ಭಾರತ. ಬುದ್ಧ, ಅಲ್ಲಮ, ಬಸವ, ಗಾಂಧಿ, ಅಂಬೇಡ್ಕರ್
ಮೊದಲಾದ ಮಹಾತ್ಮರ ನಾಡಿದು. ಅರವಿಂದರ ಗೂಡಿದು. ಈ ನಾಡಿನ ರೈತ, ಈ ನಾಡಿನ
ಸೈನಿಕ ನಮ್ಮ ದೇಶದ ಆಧಾರ ಸ್ತಂಭಗಳು.

ಪ್ರಶ್ನೆಗಳು :-

1. ನಮ್ಮ ರಾಷ್ಟ್ರಗೀತೆ ಯಾವುದು?
2. 'ವಂದೇಮಾತರಂ' ಗೀತೆಯನ್ನು ಬರೆದವರು ಯಾರು?
3. ನಮ್ಮ ರಾಷ್ಟ್ರ ಧ್ವಜದ ಹಸಿರು ಬಣ್ಣವು ಯಾವುದರ ಸಂಕೇತ?
4. ನಮ್ಮ ನಾಡಿನ ಆಧಾರ ಸ್ತಂಭಗಳು ಯಾರು?
5. ಈ ಗದ್ಯ ಭಾಗದಲ್ಲಿ ದೇಶಕ್ಕಾಗಿ ಬಲಿದಾನ ಮಾಡಿದ ಇಬ್ಬರು ಮಹಿಳೆಯರನ್ನು ಹೆಸರಿಸಿ.

**III. ಈ ಕೆಳಗೆ ಕೊಟ್ಟಿರುವ 'ಹೊಯಿಸಳ' ಅವರು ರಚಿಸಿರುವ "ಸಂತಮ್ಮಣ್ಣ" ಪಠಿತ
ಪದ್ಯಭಾಗವನ್ನು ಓದಿಕೊಂಡು, ಅದರ ಕೆಳಗೆ ಕೊಟ್ಟಿರುವ ಪ್ರಶ್ನೆಗಳಿಗೆ ಉತ್ತರ
ಬರೆಯಿರಿ.**

5X1=5

ಅಮ್ಮನ ಹಾರ ಉಬ್ಬಿದ ಎದೆಗೆ,
ಬಿದಿರಿನ ಕೊಳಲು ಗೆಜ್ಜೆಯೊಳಗೆ,
ಹದ್ದಿನ ರೆಕ್ಕೆ ಎತ್ತಿದ ತಲೆಗೆ
ಬಂದ, ಬಂದ, ಸಣ್ಣ ತಮ್ಮಣ್ಣ.

ಕತ್ತರಿ ಚಂದ್ರ ಹಣೆಯಲ್ಲಿಹುದು,
ಸಂಜೆಯ ಶುಕ್ರ ಕಣ್ಣಲ್ಲಿಹುದು,
ಬೆಳುಬೆಳ್ಳಿಗಳು ಗಲ್ಲದ ಮೇಲೆ,
ಬಂದ, ಬಂದ, ಸಂತಮ್ಮಣ್ಣ.

ಮೊದಲನೆ ಮಾತು ಹೂವಿನ ಮತ್ತು,
ಮರು ಮಾತಾಡಲು ಸಿಡಿಲು ಗುಡುಗು,
ಮೂರನೇ ಬಾರಿಗೆ ಆನೆಯ ಕಲ್ಲೆಳೆ,
ಬಂದ, ಬಂದ, ಸಣ್ಣ ತಮ್ಮಣ್ಣ.

ಬಾರ್‌ನೂ, ಬಾರ್‌ನೂ, ಸಿಡಿಲಿನ ಮರಿಯೆ!
ಬಾರ್‌ನೂ ನಾಡಿನ ಸುಂಟರ ಗಾಳಿ!
ತೋರನೂ ಸಿರಿಮೊಗ, ತುಂಟರ ಗುರುವೆ
ಬಂದ, ಬಂದ, ಸಂತಮ್ಮಣ್ಣು.

ವ್ರಶ್ನೆಗಳು :-

1. ಸಂತಮ್ಮಣ್ಣನು ಉಬ್ಬಿದ ಎದೆಗೆ ಏನನ್ನು ಹಾಕಿಕೊಂಡಿದ್ದಾನೆ?
2. ಸಂಜೆಯ ಶುಕ್ರ ಎಲ್ಲಿದೆ?
3. ತುಂಟರ ಗುರು ಯಾರು?
4. ಸಂತಮ್ಮಣ್ಣು ಮರು ಮಾತಾಡಿದರೆ ಏನಾಗುತ್ತದೆ?
5. ಸಂತಮ್ಮಣ್ಣನ ಎತ್ತಿದ ತಲೆಯ ಮೇಲೆ ಏನಿದೆ?

SECTION -B

(ಅನ್ವಯಿಕ ವ್ಯಾಕರಣ ಮತ್ತು ಪಠ್ಯಪೂರಕ ಅಧ್ಯಯನ) 10 ಅಂಕಗಳು

IV. ಕೆಳಗಿನ ಪ್ರತಿಯೊಂದು ಬಹು ಆಯ್ಕೆ ಪ್ರಶ್ನೆಗಳಿಗೆ ನಾಲ್ಕು ಉತ್ತರವನ್ನು

ಕೊಡಲಾಗಿದೆ ಸರಿಯಾದ ಉತ್ತರವನ್ನು ಆರಿಸಿ ಬರೆಯಿರಿ.

7X1=7

1. 'ಛಲ'- ಪದದ ಸಮಾನಾರ್ಥಕ ಪದ _____
(A) ಹಿರಿಮೆ (B) ಬಿರುಸು (C) ಹಟ (D) ಬಣ್ಣ
2. 'ತಾಯಿ'- ಪದದ ಬಹುವಚನ ರೂಪ _____
(A) ತಾಯಿಗಳು (B) ತಾಯಿಯರು
(C) ತಾಯಂದಿರು (D) ತಾಯಿಯರುಗಳು
3. 'ಹಿಂಸೆ'- ಪದದ ವಿರುದ್ಧ ಪದ _____
(A) ಪರಹಿಂಸೆ (B) ಮಹಾಹಿಂಸೆ (C) ಬಲುಹಿಂಸೆ (D) ಅಹಿಂಸೆ
4. ರವಿಯು ನದಿಯಲ್ಲಿ ಆಟವಾಡುತ್ತಿದ್ದಾಗ ಮೀನುಗಾರನನ್ನು ನೋಡಿದನು.
ಈ ವಾಕ್ಯದಲ್ಲಿರುವ ಅಂಕಿತ ನಾಮ ಮತ್ತು ಅನ್ವರ್ಥನಾಮವನ್ನು ಗುರುತಿಸಿ.
(A) ರವಿ-ಮೀನುಗಾರ (B) ನದಿ-ಮೀನುಗಾರ (C) ರವಿ-ನದಿ (D) ಆಟ-ದಡ
5. 'ಗುರುಗಳು + ಅಲ್ಲಿ' ಈ ಪದವನ್ನು ಕೂಡಿಸಿ ಬರೆಯಿರಿ _____
(A) ಗುರುವಲ್ಲಿ (B) ಗುರುಗಳಲ್ಲಿ (C) ಗುರುಗಳುಅಲ್ಲಿ (D) ಗುರುಗಲ್ಲಿ
6. 'ಗಂಡು'- ಪದದ ಅನ್ಯ ಲಿಂಗ ರೂಪ - _____
(A) ಸ್ತ್ರೀ (B) ಹೆಂಗಸು (C) ಹೆಣ್ಣು (D) ಮಹಿಳೆ

7. 'ಕಮಲ ನೃತ್ಯ ಮಾಡಿದಳು.' ಈ ವಾಕ್ಯದಲ್ಲಿನ ಕರ್ತೃ - ಕರ್ಮ ಪದವನ್ನು ಗುರುತಿಸಿ ಬರೆಯಿರಿ.

- (A) ಕಮಲ-ಮಾಡಿದಳು (B) ಕಮಲ - ನೃತ್ಯ
(C) ನೃತ್ಯ- ಕಮಲ (D) ಮಾಡಿದಳು ಕಮಲ

v. ಸೂಚನೆಯಂತೆ ಬರೆಯಿರಿ.

3X1=3

1. 'ದೂರದ ಬೆಟ್ಟ _____ [ಗಾದೆ ಪೂರ್ಣಗೊಳಿಸಿ.]

2. ನಾವು ಮಂಗಳೂರು ಕೊಲ್ಲೂರು ಮತ್ತು ಉಡುಪಿಗೆ ಹೋಗಿ ಬಂದೆವು

[ಈ ವಾಕ್ಯಕ್ಕೆ ಸೂಕ್ತ ಲೇಖನ ಚಿಹ್ನೆಗಳನ್ನು ಹಾಕಿ.]

3. 'ಅಭಿರುಚಿ' [ಈ ಪದವನ್ನು ಸ್ವಂತ ವಾಕ್ಯದಲ್ಲಿ ಬಳಸಿ.]

VI. ಕೆಳಗಿನ ಪ್ರಶ್ನೆಗಳಿಗೆ ನಾಲ್ಕು ಉತ್ತರವನ್ನು ಕೊಡಲಾಗಿದೆ. ಅವುಗಳಲ್ಲಿ ಸರಿಯಾದ ಉತ್ತರವನ್ನು ಆರಿಸಿ ಬರೆಯಿರಿ.

5X1=5

1. ಬೇಡನು ಬಲೆಯನ್ನು _____ ಬೀಸಿದನು.

- (A) ಹಕ್ಕಿಗಳಿಗಾಗಿ (B) ಪ್ರಾಣಿಗಳಿಗಾಗಿ
(C) ಕೀಟಗಳಿಗಾಗಿ (D) ಇರುವೆಗಳಿಗಾಗಿ

2. ಎಲ್ಲರೂ ಕೂಡಿ ಒಮ್ಮೆಲೆ ಹಾರಿಬಿಡಿ ಎಂದು ಹುರಿದುಂಬಿಸಿದವರು _____
(A) ನವಿಲು (B) ಇಲಿ (C) ಕಾಗೆ (D) ಬೇಡ

3. ಪಾರಿವಾಳಗಳು ಇಲಿಗಳ ಸಹಾಯದಿಂದ _____ ಬಿಡಿಸಿಕೊಂಡವು.

- (A) ಚೀಲದಿಂದ (B) ಬಲೆಯಿಂದ
(C) ಗೂಡಿನಿಂದ (D) ಬೆಂಕಿಯಿಂದ

4. ಪಾರಿವಾಳಗಳು ಕಾಗೆ ಮತ್ತು ಇಲಿಗಳಿಗೆ ಧನ್ಯವಾದ ಹೇಳಿದ್ದು _____

- (A) ಬಲೆಯಿಂದ ಬಿಡಿಸಿದಕ್ಕೆ (B) ಆಹಾರ ನೀಡಿದಕ್ಕೆ
(C) ಬಲೆ ಹಾಕಿದಕ್ಕೆ (D) ಕಾಳು ಹಾಕಿದಕ್ಕೆ

5. 'ಅಪಾಯದಿಂದ ಪಾರಾದ ಪಾರಿವಾಳಗಳು' ಕಥೆಯ ನೀತಿ _____

- (A) ಹಂಚಿ ತಿನ್ನೋಣ (B) ಕಾಯಕವೇ ಕೈಲಾಸ
(C) ಸೋಲೇ ಗೆಲುವಿನ ಸೋಪಾನ (D) ಒಗ್ಗಟ್ಟಿನಲ್ಲಿ ಬಲವಿದೆ

PART- B. (30 ಅಂಕಗಳು)

SECTION - C

(ಬರವಣಿಗೆ ಕೌಶಲ್ಯ) 8 -ಅಂಕಗಳು

VII. ನಿಮ್ಮ ಅಜ್ಜಿಯ ಮನೆಯಲ್ಲಿ ಪೂಜಾ ಕಾರ್ಯಕ್ರಮದಲ್ಲಿ ಪಾಲ್ಗೊಳ್ಳಲು ಮೂರು ದಿನಗಳ ರಜೆ ಕೇಳಿ ತರಗತಿ ಶಿಕ್ಷಕರಿಗೊಂದು ಪತ್ರ ಬರೆಯಿರಿ. 4

VIII. ಈ ಕೆಳಗಿನ ಯಾವುದಾದರೂ ಒಂದು ವಿಷಯವನ್ನು ಕುರಿತು ೨-೨ ವಾಕ್ಯಗಳಲ್ಲಿ ಕಿರು ಟಿಪ್ಪಣಿ ಬರೆಯಿರಿ 4

1. ಸ್ವಾತಂತ್ರ್ಯದಿನಾಚರಣೆ

2. ಆಟಗಳ ಮಹತ್ವ

3. ನನ್ನ ಗುರಿ

SECTION -D

(ಪಠ್ಯಗಳ ಅಧ್ಯಯನ) = 22 ಅಂಕಗಳು

IX. ಈ ಕೆಳಗಿನ ಪ್ರಶ್ನೆಗಳಿಗೆ ಒಂದು ವಾಕ್ಯದಲ್ಲಿ ಉತ್ತರಿಸಿ. 4X1=4

1. ಭಾರತದಲ್ಲಿ ಹರಿಯುವ ಪ್ರಮುಖ ನದಿಗಳು ಯಾವುವು?
2. ಕವಿ ತನ್ನ ಮಾತುಗಳನ್ನು ಹೇಗೆ ಆಲಿಸಬೇಕೆಂದು ಮಕ್ಕಳಿಗೆ ಕರೆ ನೀಡಿದ್ದಾರೆ?
3. ನವಿಲಿಗೆ ಇರುವ ಇತರ ಹೆಸರುಗಳಾವುವು?
4. ಕಲ್ಯಾಣ ಸೇವೆ ಎಲ್ಲಿತ್ತು?

X. ಈ ಕೆಳಗಿನ ಪ್ರಶ್ನೆಗಳಿಗೆ ಎರಡು - ಮೂರು ವಾಕ್ಯಗಳಲ್ಲಿ ಉತ್ತರಿಸಿ. 2X4=8

1. ನವಿಲಿನ ಗರಿಯ ವಿಶೇಷತೆಗಳೇನು?
2. ಸಂತಮ್ಮಣ್ಣು ಜೇಬಿನ ಬುಡದಲ್ಲಿ ಏನೇನು ಇದ್ದವು?
3. ಪುಣ್ಯಕೋಟಿ ಕಥೆಯು ಏನನ್ನು ತಿಳಿಸುತ್ತದೆ?
4. ನವಿಲನ್ನು 'ರೈತಮಿತ್ರ' ಎಂದು ಏಕೆ ಕರೆಯುತ್ತಾರೆ?

XI. ಈ ಕೆಳಗಿನ ಪ್ರಶ್ನೆಗಳಿಗೆ ಮೂರು -ನಾಲ್ಕು ವಾಕ್ಯಗಳಲ್ಲಿ ಉತ್ತರಿಸಿ. 3X1=3

1. ಗುರುಗಳು ಪಾಣಿನಿಗೆ ವಿದ್ಯೆ ನೀಡಲು ಏಕೆ ಮನಸ್ಸು ಮಾಡಿದರು?

XII. ಈ ಕೆಳಗಿನ ಪ್ರಶ್ನೆಗಳಿಗೆ ಮೂರು -ನಾಲ್ಕು ವಾಕ್ಯಗಳಲ್ಲಿ ಉತ್ತರಿಸಿ. 3X1=3

1. ಕನ್ನಡ ನುಡಿಯಲ್ಲಿ ಏನು ತುಂಬಿದೆ? 'ಮಕ್ಕಳೇ ಕನ್ನಡ ಕಲಿಯಿರಿ' ಎಂದು ಏಕೆ ಒತ್ತಾಯಿಸುತ್ತಾರೆ?

XIII. ಈ ಮಾತನ್ನು ಯಾರು ಯಾರಿಗೆ ಹೇಳಿದರು? 2X2=4

1. "ಇಗೋ ನೋಡು, ಇದು ವಿದ್ಯಾರೇಖೆ!"
2. "ಗುರುಗಳೇ ನನ್ನ ಕೈಯಲ್ಲಿ ವಿದ್ಯಾರೇಖೆ ಮೂಡಿದೆ ನೋಡಿ!"




SINDHI HIGH SCHOOL, BENGALURU
Half Yearly Examination (2025-2026)
Subject - Mathematics

Class:5
Date: 15/9/25
Number of printed sides:4

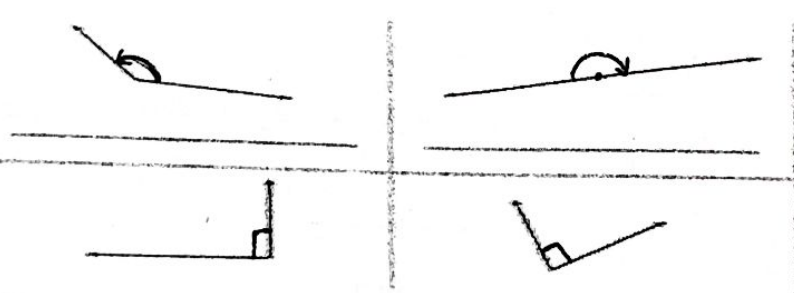
Marks: 60
Reading time: 15 minutes
Writing time: 2 hr 30 min

- General instructions
- All questions are compulsory.
- Section - A consists of 14 MCQs carrying 1 mark each
- Section - B consist of 4 short answer questions carrying 2 marks each
- Section - C consist of 5 short answer questions carrying 3 marks each
- Section- D consist of 3 question carrying 5 marks
- Section - E consists of 2 case study question carrying 4marks

No.	Section A	Marks
1.	The numeral of 'Seventy three lakh fifty thousand ten ' is written as _____. a) 7,05,010 b) 73,50,010 c) 73,50,100 d) 73,05,010	1
2.	The Roman numeral CD stands for which number ? a) 500 b) 100 c) 600 d) 400	1
3.	Which of the following is not a factor of 30? a) 2 b) 8 c) 3 d) 5	1
4.	The type of the angle formed by the hands of the clock is _____.  a) Right angle b) Acute angle c) Obtuse angle d) Straight angle	1
5.	65 can be expressed as a product of its prime factors as _____. a) 5×11 b) 5×13 c) 6×5 d) 5×6	1
6.	The number that has 3 divisors is _____. a) 6 b) 8 c) 10 d) 4	1
7.	2 crore+ 5ten thousand +6hundreds+3ones is expressed in short form as _____. a) 2,50,00,630 b) 2,00,50,603 c) 2,15,00,630 d) 2,05,00,630	1

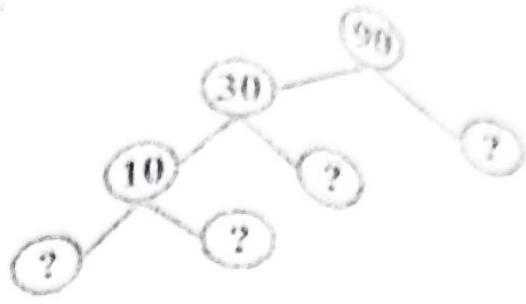

8	A point where two or more lines or edges meet is _____ a) Ann b) vertex c) rays d) diameter	1
9	The letter that has both vertical and horizontal lines of symmetry is _____. a) L b) M c) J d) X	1
10	What do we call a straight line that joins two points? a) curve b) angle c) line segment d) radius	1
11	Any number multiplied by zero is _____. a) 0 b) number itself c) 1 d) 10	1
12	The prime numbers between 10 and 15 are _____ and _____. a) 11 and 12 b) 13 and 14 c) 11 and 13 d) 13 and 15	1
13	The next equivalent fraction of $\frac{5}{8}$ is _____. a) $\frac{10}{16}$ b) $\frac{15}{8}$ c) $\frac{5}{16}$ d) $\frac{10}{25}$	1
14	Two right angles together make _____. a) 90° b) 180° c) 270° d) 100°	1

Section B

15	List the factors of 27	2
16	Find the product of smallest 4-digit number and greatest 2-digit number.	2
17	Add / Subtract a) $\frac{9}{25} + \frac{11}{25}$ b) $\frac{14}{39} - \frac{10}{39}$	2
18	Classify the types of the following angles as obtuse, acute, right or straight. 	2

Section - C

19	a) What is the place value of the digits 3 and 4 in 6,38,47,219? b) Create the number for the following based on the place value (i) 7 in lakhs, 4 in ten thousands, 6 in ones (ii) 3 in crores, 2 in lakhs, 5 in hundreds	1 2
20	a) Simplify : $9,81,734 + 5,60,296 - 4,73,159$ b) $53,695 \times 0$	2 1
21	a) A cake was cut into 16 equal slices. After the party, $\frac{1}{4}$ of the cake was left. How many slices were left? b) Convert $8\frac{2}{5}$ into an improper fraction	2 1

22	a) Construct a circle of radius 3cm b) Mark its centre and diameter. Also name them.	1 2
23	a) Complete the factor tree 	2 1
Section D		
24	a) A car company sold 2,15,430 cars in 2022 and 2,47,580 cars in 2023. How many cars were sold in total in both years? b) Divide and check your answer: $6895 \div 13$	2 3
25	a) Draw the mirror image of the following 	3 2
b) How many lines of symmetry do these shapes have? (i) Indian flag (ii) circle		
26	a) Find the LCM of the following using prime factorization (i) 25, 30 (ii) 14, 10 b) Write the common factors of 20 and 28	3 2

Section - B
Case Study

27

Class 5 students organized a party to celebrate their excellent performance in a school quiz. There were 2 large pizzas, and each pizza was cut into 8 equal slices. Riya ate 3 slices, Aman ate 5 slices, Ravi ate 4 slices, Tina ate 2 slices.




- What fraction of pizza did Riya and Aman eat?
- How many total slices were eaten by Riya, Aman, Tina, and Ravi?
- How many equal slices are there in the 2 large pizzas?

1
2
1


28

A printing company receives a big order to print books for schools in different cities. The schools are located in 3 major cities : City A, City B, City C
City A: 10,000 books , City B: 15,000 books , City C: 8,000 books



- In how many cities are the schools located?
- If the company earns Rs750 for printing 25 books, then how much does it earn for printing each book?
- How much does the printing cost for 8000 books?

1
2
1

g)	<p>What does this road sign indicate?</p>  <p>a) Left turn prohibited b) No parking c) No entry d) U- turn prohibited</p>	
h)	<p>In case of dog bite, the injured person should</p> <p>a) ignore it b) put butter on it c) tie a bandage without cleaning d) wash the wound and see a doctor immediately</p>	
II	Name the following	1 x 4= 4
a)	Crops which are grown in summer season	
b)	The disease caused due to the deficiency of protein and carbohydrate	
c)	The mixture of two or more substances	
d)	The layer which filters all the harmful UV rays from the sun	
III	Analogy	1X4=4
a)	Flowering plant : Hibiscus :: Non flowering plant : _____	
b)	_____ : Supports Combustion :: Carbon Dioxide : Extinguishes Fire	
c)	Evaporation: on heating :: _____ : on cooling	
d)	Rickets : Vitamin D :: _____ : Vitamin B	
IV	Give two examples for each	1X4=4
a)	Rabi crops.	
b)	Materials used to put off fire caused due to electrical faults	
c)	Water borne diseases.	
d)	Sedimentary rocks.	
V	Define the following	1 x 3= 3
a)	Minerals	
b)	Reproduction	
c)	Atmospheric pressure	
VI	Give reason	1 x 2= 2
a)	We need to drink 6 - 8 glasses of water in a day.	
b)	Oxygen is essential for our life.	

SECTION B

VII

Answer the following questions.

- a) Name the dispersal agents of the seeds given below:
 i) Cotton
 ii) Xanthium
 iii) Balsam
 iv) Lotus

2x7=14

- b) Kushal went to visit Harshita's house. She went into the kitchen to bring some eatables for him suddenly she screamed. She had spilt boiling milk on her forearm. What first aid should be given to Harshita?

- c) a) Identify the monument in the picture given below and the rock used for making it.



- b) If you were an architect would you use this rock for building houses? Why or why not?

- d) Name the minerals or ore from which the below given metals are obtained.
 1) Iron ii) Copper iii) Mercury iv) Zinc

- e) Rahul works in an IT company. Due to long working hours his body became weak and inefficient. The doctor has advised to take rest. Justify the doctor's advice.

- f) Give reason.

- a) We should not use dirty and rusty objects.
 b) A person bitten by a snake should remain as still as possible.

- g) Explain in brief the composition of air.

SECTION C

VIII

Answer the following questions.

3x 5=15

- a) Draw a neat labelled structure of a seed.

- b) Write an activity to explain that air has weight. Explain with a neat diagram.

c)	Vivan fell from bicycle and got deep cut on his leg. What first aid steps should he follow?	
d)	List any three methods by which you can conserve the natural resources.	
e)	a) Differentiate between solid and liquid. b) Classify the given below liquids into miscible and immiscible. i) Kerosene ii) Vinegar	
SECTION - D		
IX	Answer the following questions.	5x 2= 10
a)	a) Roughage is essential for our body. Explain its significance. b) Write any two sources of it. c) How is water made potable?	
b)	a) Jiya's mother lit incense sticks in the pooja room. She ran towards the pooja room smelling the fragrance. How was she able to sense it? b) List the characteristics of gas. c) Jaya's father purchased an aquarium. She was curious to know how aquatic animals survive in this surrounding. Help her with a suitable answer.	



SINDHI HIGH SCHOOL, BENGALURU
Half Yearly Exam - (2025-26)
SUBJECT - Social Science

Class: V
Date: 19-9-2025
No. of printed sides: 4

Marks: 60
Reading Time: 15 minutes
Writing Time: 2hrs 30 min

General Instructions:

- All Questions are compulsory.
- Answer the questions in order and write neatly.

SECTION A		
1.	Choose and write the correct answer:	1X5=5
i.	The Central government is also known as the _____. a) Union Government b) State Government c) Local Government d) District Government	1
ii.	The first European to Sail around the southern tip of Africa. a) Vasco Da Gama b) Bartolomeu Dias c) Christopher Columbus d) Amerigo Vespucci	1
iii.	The Inuit live in the houses called _____. a) Huts b) Cottage c) Tepee d) Igloo	1
iv.	Which of the following city experiences a cool climate in summer ? a) Jaipur b) Bhopal c) Srinagar d) Chennai	1
v.	The largest waterbody- a) Ocean b) Sea c) Bay d) Gulf	1
2.	Name the following:	1X5=5
i.	The head of a State.	1
ii.	The Portuguese explorer and navigator who proved that the Earth is round.	1
iii.	The largest hot desert in the world.	1
iv.	Europe and Asia together are called-	1
v.	A longitude that passes through Greenwich.	1

9.	a) Identify this personality. b) What was his contribution towards our country?	2
----	--	---



10.	What is the main function of the Parliament? Name the two houses of the Parliament.	2
-----	---	---

11.	Complete the table- <div style="text-align: center;"> Equatorial Rainforest <table border="1" style="margin: auto;"> <thead> <tr> <th>Climate</th> <th>Vegetation</th> <th>Wildlife</th> <th>People</th> </tr> </thead> <tbody> <tr> <td> </td> <td> </td> <td> </td> <td> </td> </tr> </tbody> </table> </div>	Climate	Vegetation	Wildlife	People					2
Climate	Vegetation	Wildlife	People							

SECTION C

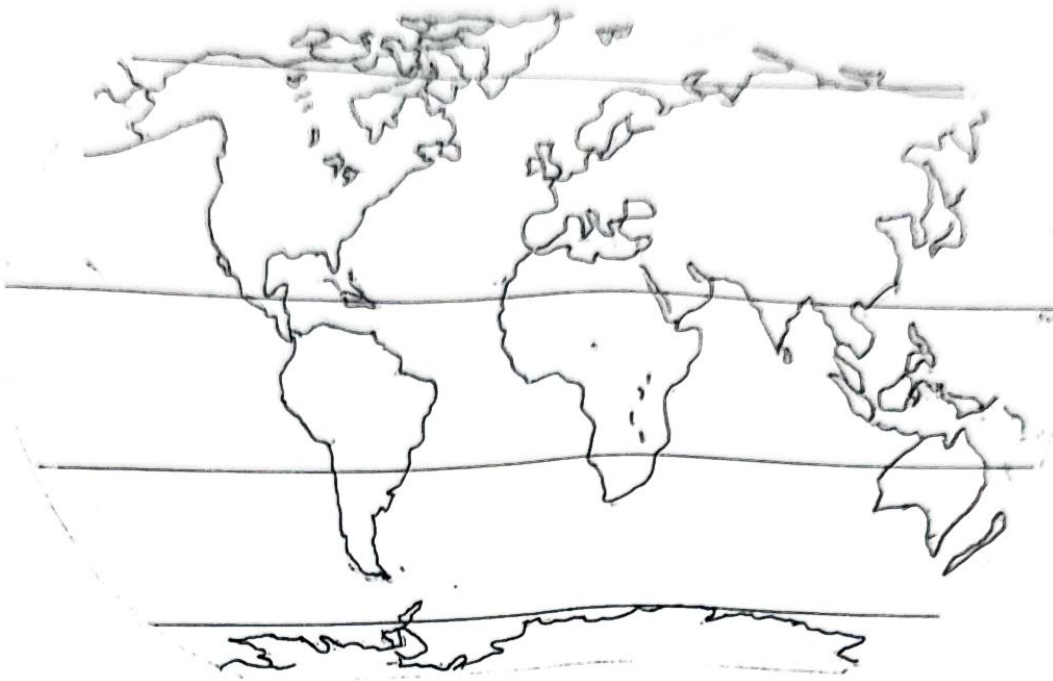
Answer the following: (Carries 3 marks for each question) 3x5=15

12.	Write a short note on Indian Ocean.	3
13.	List any three various factors affecting climate of a place.	3
14.	Analyse how the climate of the temperate zone affects the lifestyle of people living there.	3
15.	Do you think the Age of Exploration had more positive effects or negative effects on the world? Explain briefly.	3
16.	Elections are important in a democracy like India? Give reasons for your answer.	3

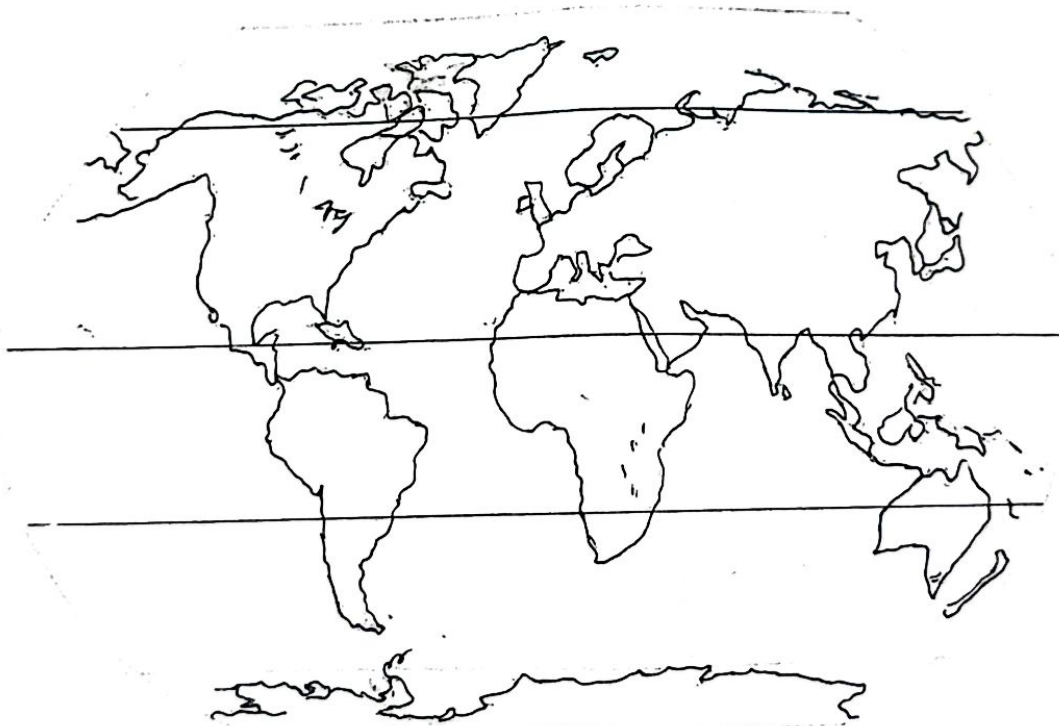
SECTION D

17.	Draw the important lines of Lattitudes	5
18.	On the world map, name one large country in each of the zones and locate Arctic Ocean and Southern Ocean.	5

18.



18.





SINDHI HIGH SCHOOL, BENGALURU

Half Yearly Examination 2025-26

Subject: Computer Science



Name:
Class: V A/B/C
Roll no:
Date: 10/09/2025

Marks: 30
No of Printed Sides: 4
Reading Time: 15 Min.
Writing Time: 1 Hour.

Instructions:

1. Read all questions carefully.
2. All questions are compulsory.
3. Write neatly in the given order.

I. Choose and tick the correct answer.	5X1=5
1. Which part of CPU is responsible for performing mathematical operations? (a) Memory Unit (b) Arithmetic Unit (c) Control Unit (d) Logic Unit	1
2. Integrated circuits were introduced in which generation of computers? (a) First Generation (b) Second Generation (c) Third Generation (d) Fourth Generation	1
3. What does a QR code contain? (a) Only pictures (b) Only Text (c) A secret message or information (d) Only numbers	1
4. If you wanted to emphasize the first letter of a chapter in a storybook style, which feature would you use? (a) Header (b) Footer (c) Watermark (d) Drop cap	1
5. Why should you preview your PowerPoint presentation before presenting it? (a) To ensure all elements work as expected (b) To make sure it has errors (c) To ignore feedback (d) To avoid checking the flow of slides	1

II. Match the following:

	A	B
1.	Snipping Tool	(a) Programming
2.	The act of writing code	(b) Allows to capture screenshots
3.	Vacuum Tube	(c) To provide Consistent information (page nos., title) on each page.
4.	Header and Footer	(d) A blank canvas to add content to
5.	Slide	(e) First Generation computer

5X1=5

III. Answer in following:

1 Name the special folder where deleted files are temporarily stored on a computer with Windows 10 OS.

1

2 Which shape in a flowchart typically represents a decision point?

1

3 What is Coding?

1

4 What is Watermark tool in MS word?

1

5 Name the tab that contains "Themes" in MS PowerPoint to add different styles and backgrounds to the slides?

1

V.	Answer the following	1X(2½) -5
1.	Write the Flowchart of Traffic Signal.	(2½)
2	Write the steps to add pen extension in PictoBlox.	(2½)